

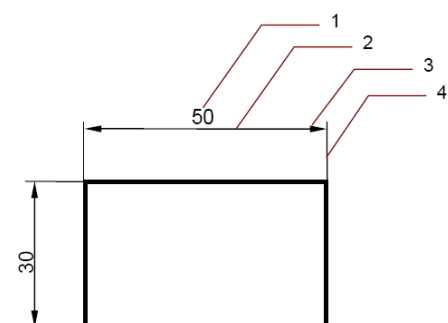


Шифра ученика _____

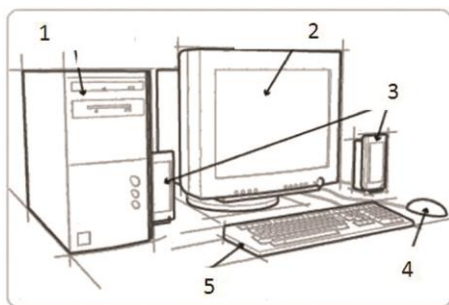
Бодова:

ТЕСТ 5. разред


Датум:



A



Б



В

Питања и задаци

1. На линијама упиши елементе котирања који су обележени на слици А.

1 _____
2 _____
3 _____
4 _____

4

2. Упиши назив размере.

1:1 је _____ размера
1:2 је _____ размера
2:1 је _____ размера

3

3. Повежи компоненту рачунара са редним бројем.

_____ тастатура
_____ миш
_____ монитор
_____ кућиште
_____ звучници

5

4. Допуни следећу реченицу.

Сви програми у рачунару једним именом називају се _____.

2

5. Ако је исказ тачан заокружи ДА, ако није тачан НЕ.

Основна сировина за производњу папира је целулоза.

ДА НЕ

1

6. Заокружи тачан одговор.

Димензије формата папира А4 су:

а. 210 x 297 mm
б. 297 x 420 mm
в. 148 x 210 mm

3

7. Допуни следећу реченицу.





Тростандардни, умањено израђени производ неког предмета, апарата, уређаја или саобраћајног средства са свим карактеристикама (особинама) назива се _____.

3

8. Ако је исказ тачан заокружи ДА, ако није тачан НЕ.

Поступак израде неког предмета шематски се представља алгоритмом .

1

		ДА	НЕ	
Питања и задаци				
	<p>9. На линије упиши одговарајућа слова.</p> <p>а. јасен ___, ___, ___ тврдо дрво</p> <p>б. буква ___, ___, ___ меко дрво</p> <p>в. храст</p> <p>г. врба</p> <p>д. топола</p> <p>ђ. липа</p>			6
	<p>10. Заокружи тачне одговоре.</p> <p>Полупроизводи од дрвета су:</p> <p>а. фурнир б. иверица в. врата г. прозори</p> <p>д. шперплоча ђ. лесонит-плоча</p>			4
	<p>11. Ако је исказ тачан заокружи ДА, а ако није тачан НЕ.</p> <p>Сиви картон се лако савија и не пуца, бели картон је чврст али се ломи при савијању.</p> <p style="text-align: center;">ДА НЕ</p>			3
	<p>12. Допуни следећу реченицу.</p> <p>На слици Д приказан је прибор за _____ и _____.</p>			4
	<p>13. Ако је исказ тачан заокружи ДА, а ако није тачан НЕ.</p> <p>На слици Ђ приказано је постројење које за свој рад користи необновљив извор енергије.</p> <p style="text-align: center;">ДА НЕ</p>			1
 <p style="text-align: right;">а</p>  <p style="text-align: right;">б</p>	<p>14. Заокружи тачан одговор</p> <p>Постројење које енергију сунца претвара у електричну енергију зове се:</p> <p>а. хидроелектрана б. аеро-електрана</p> <p>в. соларна ћелија (плоча)</p>			3
	<p>15. Допуни следећу реченицу.</p> <p>Сложен систем који омогућава превоз људи, транспорт робе и пренос информација зове се _____.</p>			2
<p>16. Заокружи тачан одговор.</p> <p>На слици Е приказани су:</p> <p>а. знакови опасности и изричитих наредби</p> <p>б. знакови опасности и обавештења</p> <p>в. знакови изричитих наредби</p>			3	
<p>17. Ако је исказ тачан заокружи ДА, а ако није тачан заокружи НЕ.</p> <p>На слици Е, знак обележен словом а представља означени пешачки прелаз</p>			2	

 <p>Е</p>	<p>ДА НЕ</p>	
--	--------------	--

КЉУЧ.....

5.разред

Одговор на питање	Начин бодовања
1. <u>1 котни број</u> <u>2 котна линија</u> <u>3 котна стрелица</u> <u>4 помоћна котна линија</u>	(за сваки тачан одговор по 1 бод)
2. 1:1 је <u>природна</u> размера 1:2 је <u>умањена</u> размера 2: 1 је <u>увећана</u> размера	(за сваки тачан одговор по 1 бод)
3. <u>5</u> тастатура <u>4</u> миш <u>2</u> монитор <u>1</u> кућиште <u>3</u> звучници	(за сваки тачан одговор по 1 бод)
4. софтвер	-
5. ДА	-
6. а. 210 x 297 mm	-
7. модел	-
8. ДА	-
9. <u>а</u> , <u>б</u> , <u>в</u> тврдо дрво <u>г</u> , <u>д</u> , <u>ђ</u> меко дрво	(за сваки тачан одговор по 1 бод)
10. а. фурнир б. иверица д. шперплоча ђ. лесонит-плоча	(за сваки тачан одговор по 1 бод)
11. ДА	-
12. <u>мерење</u> и <u>обележавање</u>	(за сваки тачан одговор по 2 бода)

13. НЕ	-
14. в.соларна ћелија (плоча)	-
15. саобраћај	-
16. а. знакови опасности и изричитих наредби	-
17. НЕ	-